




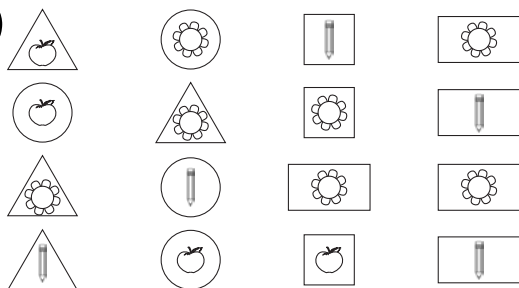
第3单元检测卷

(时间:45分钟 满分:100分)

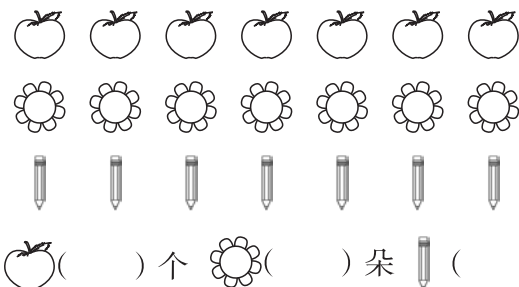
一、把玩具涂上颜色。(8分)



二、(共21分)

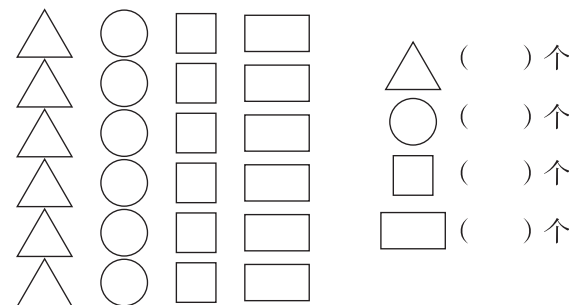


1. (9分)按物品分一分,在下面涂一涂,填一填。




苹果()个 花朵()朵 铅笔()支

2. (12分)按卡片形状分一分,在下面涂一涂,填一填。

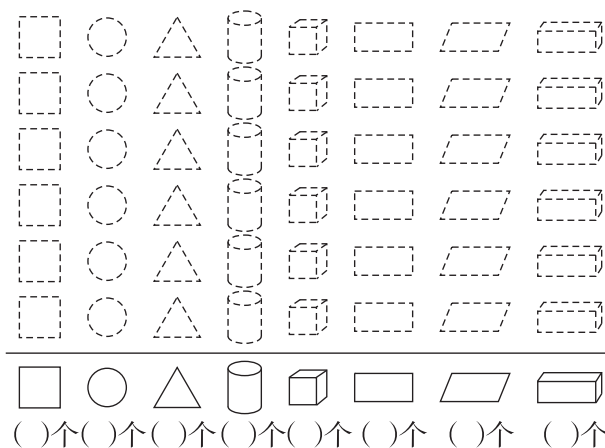


△ () 个
○ () 个
□ () 个
▭ () 个

三、分类整理下面的图形。(共31分)



1. (16分)按形状分一分,涂一涂,再说一说每种图形各有几个。

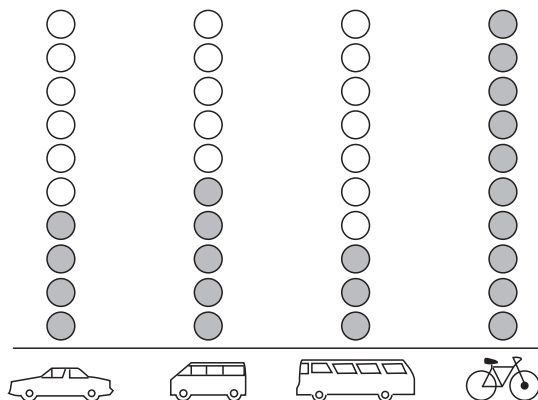


□ () 个 ○ () 个 △ () 个 圆柱 () 个 立方体 () 个 长方形 () 个 平行四边形 () 个





2. (8 分)如果把这些图形分成两组,可以怎样分? 把分组结果表示出来,并与同学交流自己的分法。

3. (7 分)根据分的结果,同桌互相提一个问题。

四、下面是同学们调查交通路口 5 分钟内各种车辆通行情况后所做的记录。(共 24 分)



根据上图填写下表。

车型				
数量(辆)				

根据上面的统计结果回答问题。

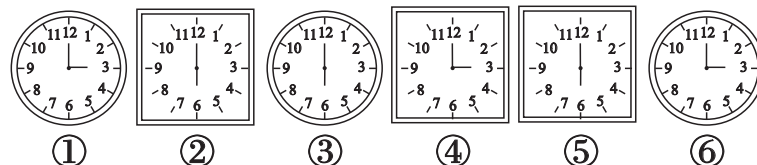
1. 5 分钟内通过的车辆一共有()辆。

2. 通过的公共汽车比小轿车少()辆。

3. 通过的面包车比公共汽车多()辆。

4. 通过的自行车比小轿车多()辆。

五、可以怎样分?(16 分)




1. (8 分)按____分

2. (8 分)按____分

第3单元检测卷

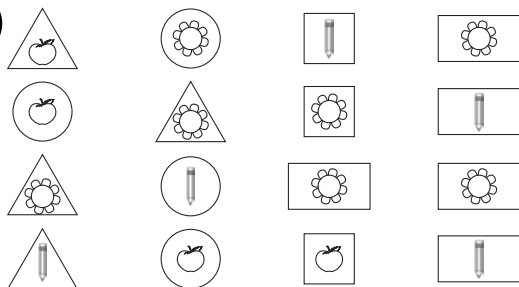
(时间:45分钟 满分:100分)

一、把玩具涂上颜色。(8分)




略

二、(共21分)



涂色,分一分皆略

1. (9分)按物品分一分,在下面涂一涂,填一填。

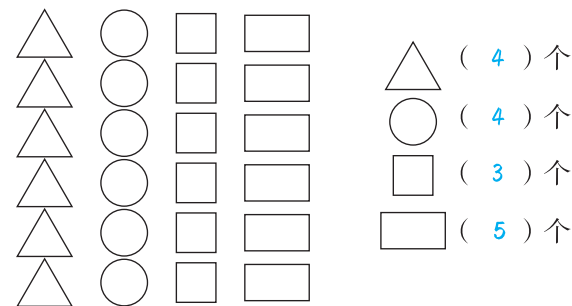


苹果(4)个 花朵(7)朵 铅笔(5)支

家长签字:


教师评语:

2. (12分)按卡片形状分一分,在下面涂一涂,填一填。



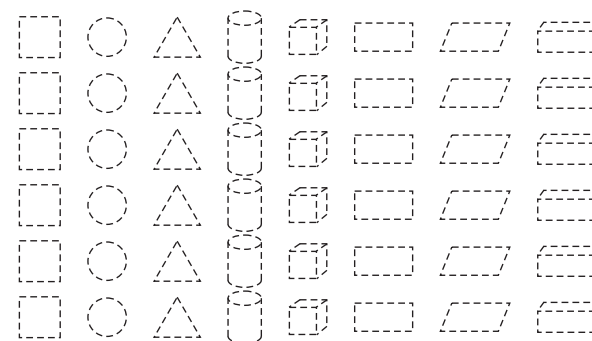
△ (4) 个
○ (4) 个
□ (3) 个
▭ (5) 个

三、分类整理下面的图形。(共31分)



涂色,分一分皆略

1. (16分)按形状分一分,涂一涂,再说一说每种图形各有几个。



□ (4)个 ○ (5)个 △ (4)个 圆柱 (3)个 正方体 (3)个 长方形 (4)个 平行四边形 (4)个 梯形 (3)个

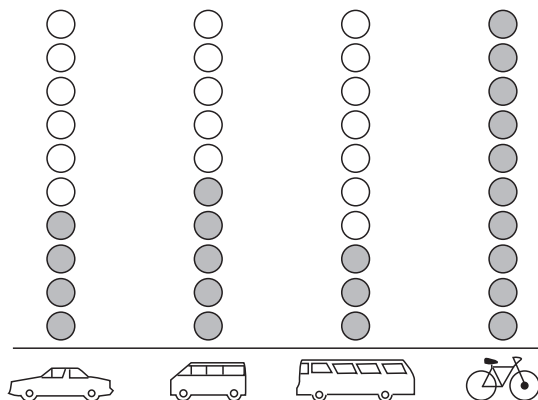
2. (8分)如果把这些图形分成两组,可以怎样分?把分组结果表示出来,并与同学交流自己的分法。

按平面图形与立体图形分

3. (7分)根据分的结果,同桌互相提一个问题。

略

四、下面是同学们调查交通路口 5 分钟内各种车辆通行情况后所做的记录。(共 24 分)



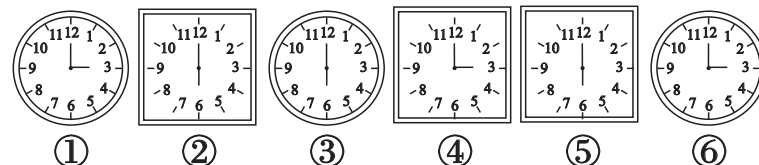
根据上图填写下表。

车型				
数量(辆)	4	5	3	10

根据上面的统计结果回答问题。

- 5 分钟内通过的车辆一共有(22)辆。
- 通过的公共汽车比小轿车少(1)辆。
- 通过的面包车比公共汽车多(2)辆。
- 通过的自行车比小轿车多(6)辆。

五、可以怎样分?(16分)



1. (8分)按时间分

①④⑥ ②③⑤

2. (8分)按形状分

①③⑥ ②④⑤